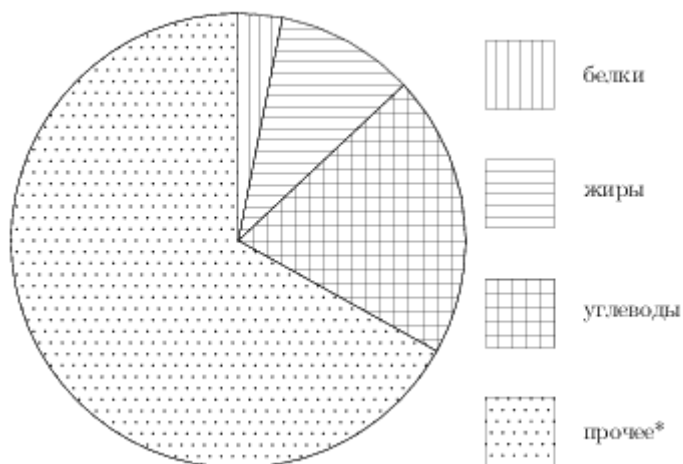


1. Прототип задания 8 (№ 206046) 12 заданий

На диаграмме показано содержание питательных веществ в сливочном мороженом. Определите по диаграмме, содержание каких веществ преобладает.

мороженое



*-к прочему относятся вода, витамины и минеральные вещества.

Варианты ответа

1.

жиры

2.

белки

3.

углеводы

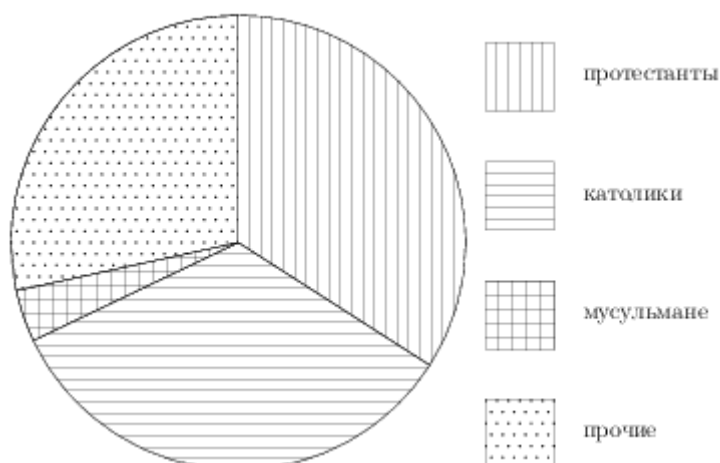
4.

прочее

2. Прототип задания 8 (№ 206047)

На диаграмме показан религиозный состав населения Германии. Определите по диаграмме, какая из религиозных групп является самой малочисленной.

Германия



Варианты ответа

1.

протестанты

2.

католики

3.

мусульмане

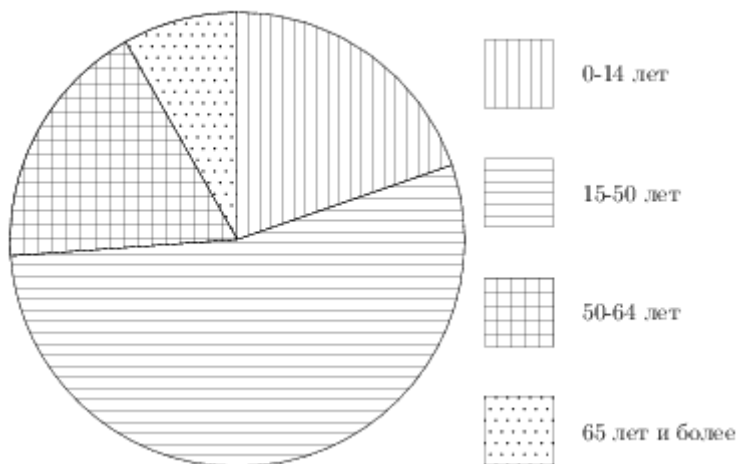
4.

прочие

3. (№ 206048)

На диаграмме показан возрастной состав населения Китая. Определите по диаграмме, население какого возраста составляет более 50% от всего.

Китай



Варианты ответа

1.

0-14 лет

2.

15-50 лет

3.

51-64 лет

4.

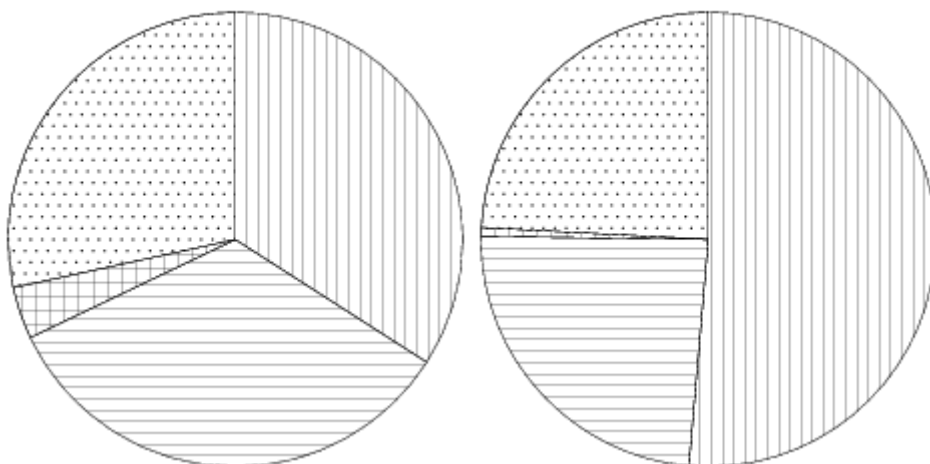
65 и более

4. (№ 206049)

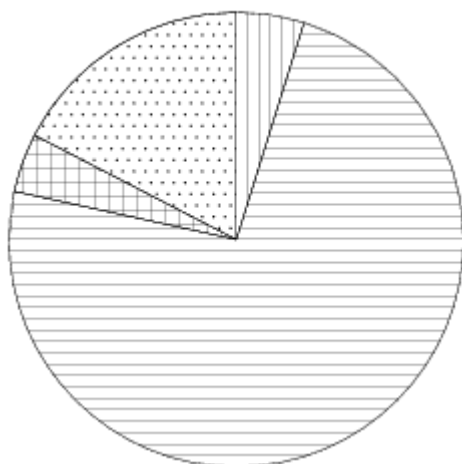
На диаграмме показаны религиозные составы населения Германии, США, Австрии и Великобритании. Определите по диаграмме, в какой стране доля протестантов наибольшая.

Германия

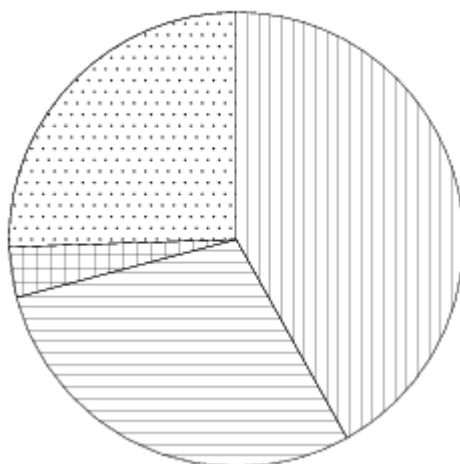
США



Австрия



Великобритания



Варианты ответа

1.

Германия

2.

США

3.

Австрия

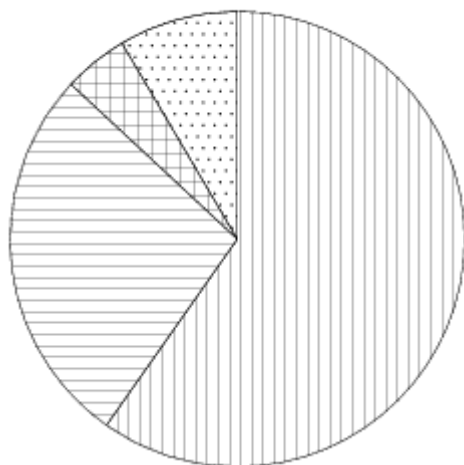
4.

Великобритания

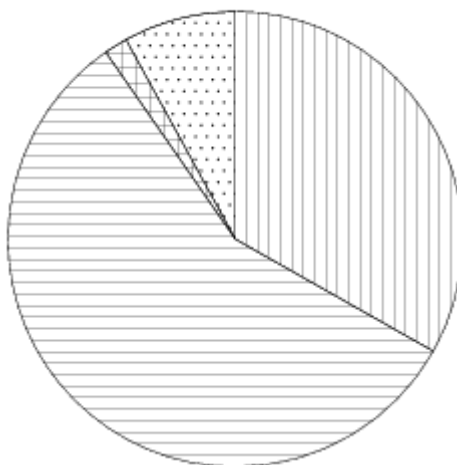
5. (№ 206050)

На диаграмме показано распределение земель Уральского, Приволжского, Южного и Дальневосточного Федеральных округов по категориям. Определите по диаграмме, в каком округе доля земель сельскохозяйственного назначения наименьшая.

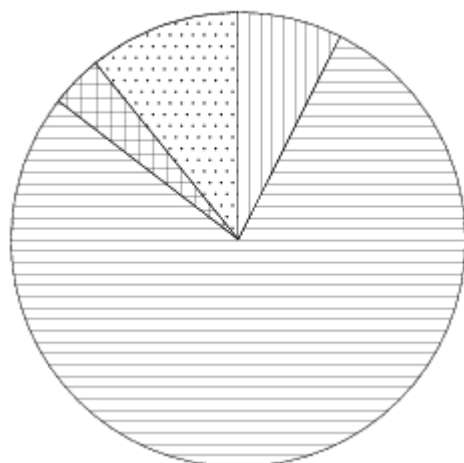
Уральский ФО



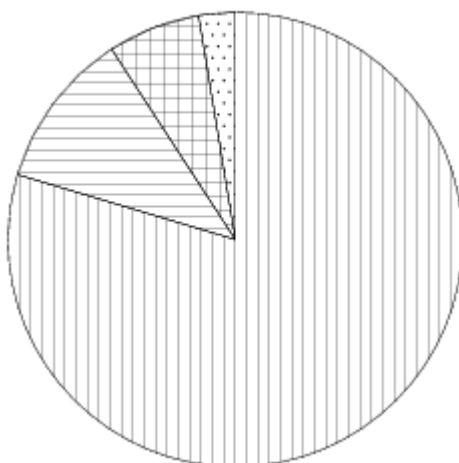
Приволжский ФО



Южный ФО



Д.-В. ФО



Земли лесного фонда



Земли сельскохозяйственного назначения



Земли запаса



Прочее*

*прочее — это земли поселений; земли промышленности и иного специального назначения; земли особо охраняемых территорий и объектов.

Варианты ответа

1.

Уральский ФО

2.

Приволжский
ФО

3.

Южный ФО

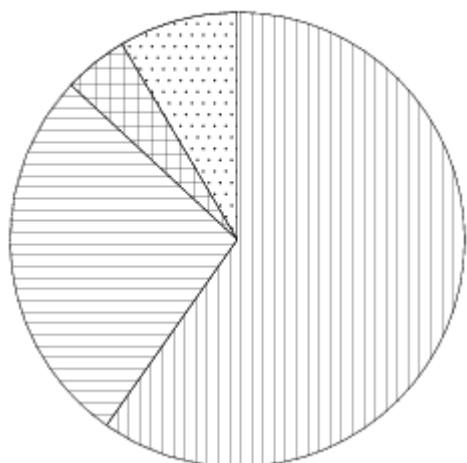
4.

Дальневосточный
ФО

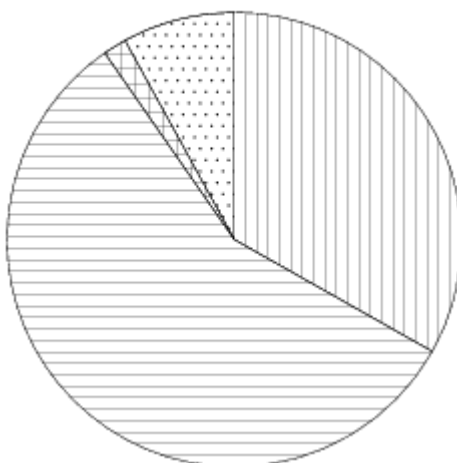
6. (№ 206051)

На диаграмме показано распределения земель Уральского, Приволжского, Южного и Дальневосточного Федеральных округов по категориям. Определите по диаграмме, в каком округе доля земель лесного фонда превышает 70%.

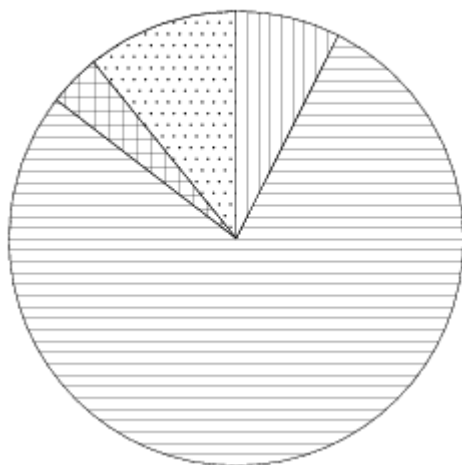
Уральский ФО



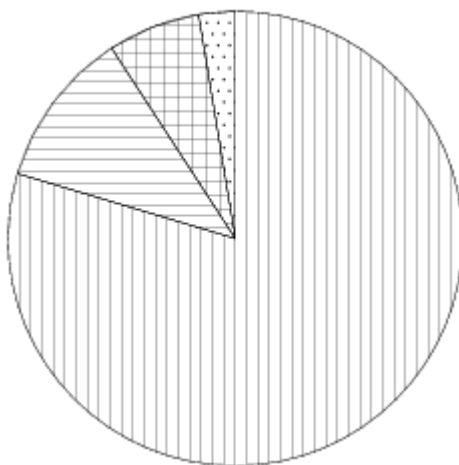
Приволжский ФО



Южный ФО



Д.-В. ФО



Земли лесного фонда



Земли сельскохозяйственного назначения



Земли запаса



Прочее*

*прочее — это земли поселений; земли промышленности и иного специального назначения; и земли особо охраняемых территорий и объектов.

Варианты ответа

1.

Уральский ФО

2.

Приволжский
ФО

3.

Южный ФО

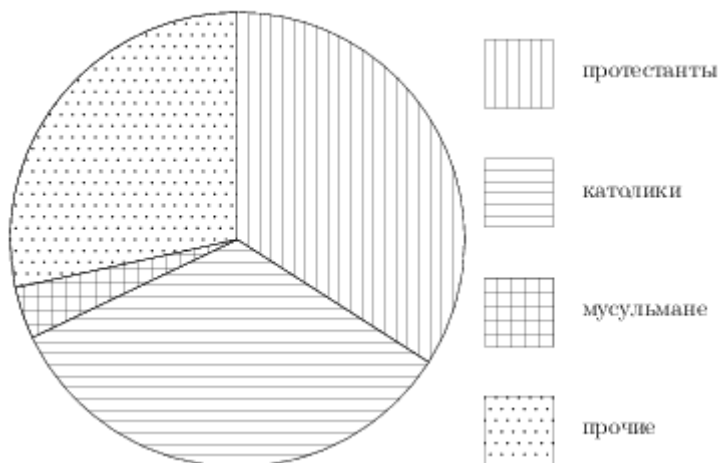
4.

Дальневосточный
ФО

7. (№ 206052)

На диаграмме показан религиозный состав населения Германии. Определите по диаграмме, в каких пределах находится доля католиков.

Германия



Варианты ответа

1.

0-10%

2.

10-20%

3.

25-40%

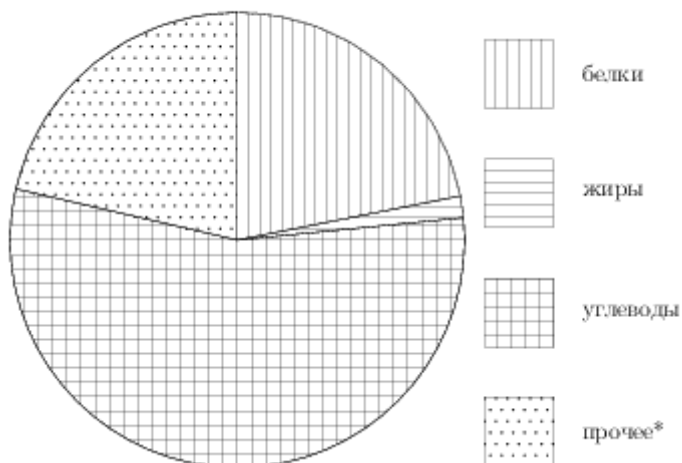
4.

40-60%

8. (№ 311681)

На диаграмме показано содержание питательных веществ в фасоли.

фасоль



*-к прочему относятся вода, витамины и минеральные вещества.

Сколько примерно углеводов содержится в 1000 граммах фасоли?

Варианты ответа

1.

около 500 г

2.

около 60 г

3.

около 250 г

4.

около 40 г

9. (№ 311683)

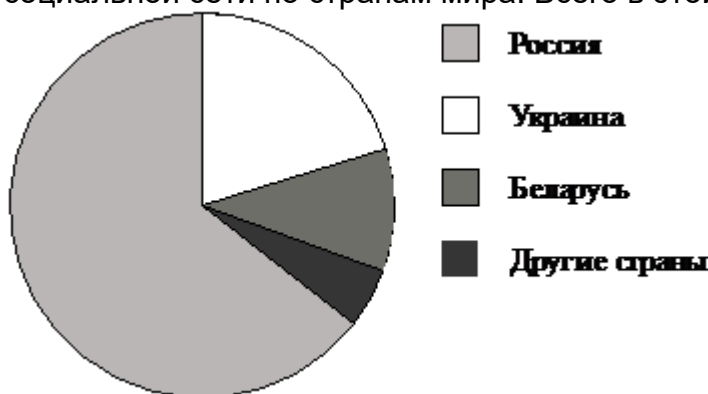
Средний рост мальчиков класса, где учится Миша, равен 171 см. Рост Миши 175 см. Какое из следующих утверждений верно?

Варианты ответа

- | | | | |
|--|---|---|---|
| 1. В классе все мальчики, кроме Миши, имеют рост 171 см. | 2. В классе обязательно есть мальчик ростом менее 171 см. | 3. В классе обязательно есть мальчик ростом 171 см. | 4. В классе обязательно есть мальчик ростом 167 см. |
|--|---|---|---|

10. (№ 325020)

На диаграмме представлено распределение количества пользователей некоторой социальной сети по странам мира. Всего в этой социальной сети 9 млн пользователей.



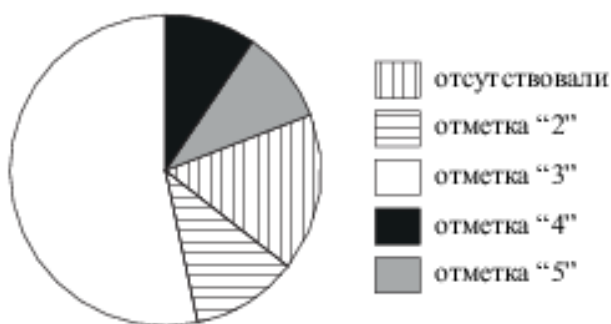
Какие из следующих утверждений неверны?

- 1) Пользователей из России больше, чем пользователей из Украины.
- 2) Больше трети пользователей сети — из Украины.
- 3) Пользователей из Беларуси больше, чем пользователей из Украины.
- 4) Пользователей из России больше 4 миллионов.

В ответе запишите номера выбранных утверждений.

11. (№ 325021)

Завуч подвёл итоги контрольной работы по математике в 9-х классах. Результаты представлены на диаграмме.

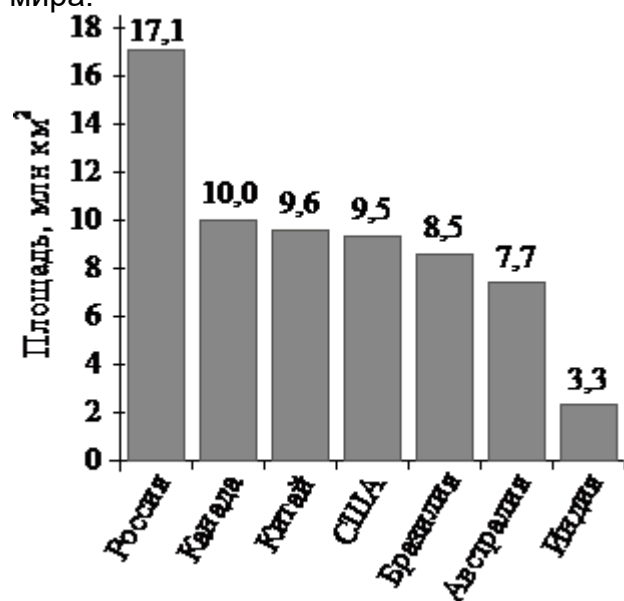


Какое из утверждений относительно результатов контрольной работы верно, если всего в школе 120 девятиклассников?

- 1) Более половины девятиклассников получили отметку "3".
- 2) Около половины девятиклассников отсутствовали на контрольной работе.
- 3) Отметку "4" или "5" получила примерно треть девятиклассников.
- 4) Отметку "3", "4" или "5" получили более 100 учащихся.

12. (№ 325022)

На диаграмме представлены семь крупнейших по площади территории (в млн км²) стран мира.



Какие из следующих утверждений неверны?

- 1) Канада — крупнейшая по площади территории страна мира.
- 2) Площадь территории Индии составляет 3,3 млн км².
- 3) Площадь Китая больше площади Австралии.
- 4) Площадь Канады больше площади США на 1,5 млн км².

В ответе запишите номера выбранных утверждений.